

令和4年度一般選抜学力検査問題

社 会

(5 時間目 50分)

注 意

- 1 問題用紙と解答用紙の両方の決められた欄に，受検番号と氏名を記入しなさい。
- 2 問題用紙は開始の合図があるまで開いてはいけません。
- 3 問題は1 ページから6 ページまであり，これとは別に解答用紙が1 枚あります。
- 4 答えは，すべて解答用紙に記入しなさい。

受検番号		氏 名	
------	--	-----	--

1 次の模式図と地図、図、表を見て、(1)～(6)の問いに答えなさい。

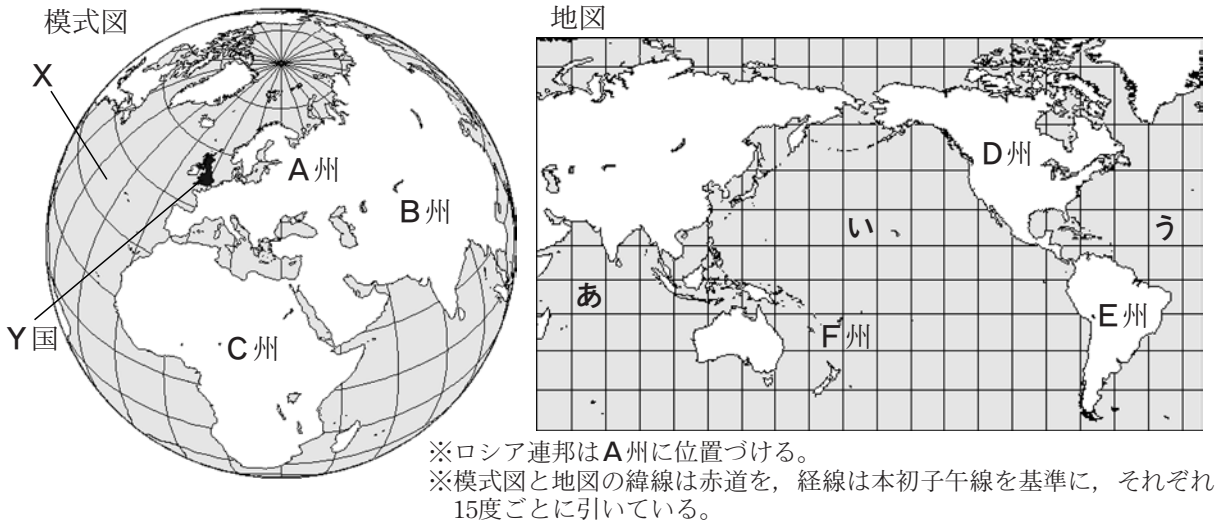


図1 気温の変化

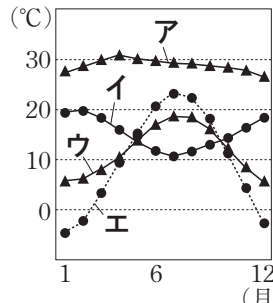
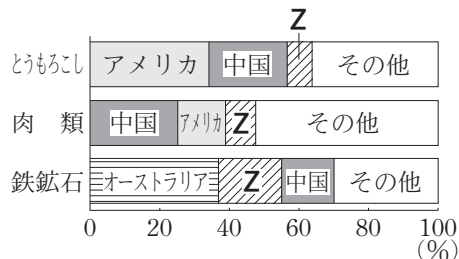


表1 模式図と地図のA～D州の比較(2017年)

項目	年平均人口増加率(%) (2000～2015年)	日本からの 輸入額(億円)	一人あたりの CO ₂ 排出量(t)
㊦	1.05	183 925	10.3
㊧	2.55	8 433	1.1
㊨	1.14	457 345	4.0
㊩	0.16	100 642	6.9

図2 農・鉱産物の生産割合(2018年)



(図1, 表1, 図2は「データブック オブ・ザ・ワールド2021年版」などから作成)

- 模式図のXは、世界の三大洋のうちの一つである。Xの海洋名を書きなさい。また、Xと同じ海洋を、地図のあ～うから一つ選んで記号を書きなさい。
- 模式図に示したY国の位置から、地球の中心を通り、正反対にある州を模式図と地図のA～F州から一つ選んで記号を書きなさい。
- 模式図のY国の首都の気温を示すものを、図1のA～Eから一つ選んで記号を書きなさい。
- 表1の㊦～㊩から、地図のD州にあてはまるものを一つ選んで記号を書きなさい。
- 図2のZにあてはまる国を一つ選んで記号を書きなさい。

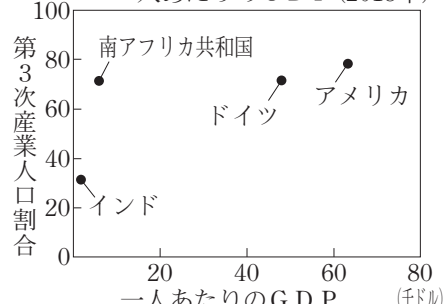
ア カナダ イ フランス ウ サウジアラビア エ ブラジル

(6) 表2と図3は、A～D州の各州において、GDPの上位国を取り上げ、比較したものである。表2と図3から読みとれる、他国と比較したインドの経済的な特色を書きなさい。

表2 各国の統計(2018年)

項目	GDP (億ドル)	人口 (万人)
ドイツ	39 495	8 312
インド	27 794	135 264
南アフリカ共和国	3 681	5 779
アメリカ	205 802	32 710

図3 第3次産業人口割合と一人あたりのGDP(2018年)



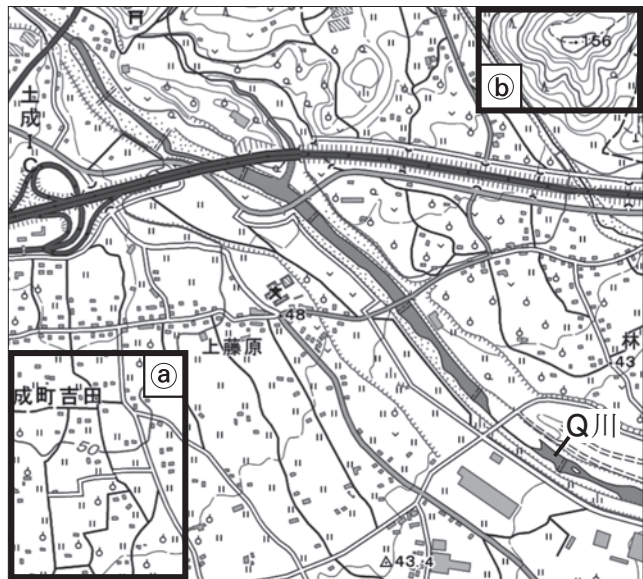
(表2, 図3は「世界国勢図会2020/21年版」などから作成)

2 次の地図と図、表を見て、(1)～(4)の問いに答えなさい。

地図



図1



(「国土地理院電子地形図25000」を加工して作成)

(1) 地図の **X** にあてはまるものを、一つ選んで記号を書きなさい。

- ア 讃岐 イ 濃尾 ウ 越後 エ 石狩

(2) 図1は、地図のP川の支流であるQ川付近の地形図の一部である。

① Q川はどの方角からどの方角へ流れているか、一つ選んで記号を書きなさい。

- ア 北東から南西 イ 南東から北西 ウ 北西から南東 エ 南西から北東

② 次の文の **Y** に入る適切な内容と、**Z** にあてはまる語を、それぞれ書きなさい。

図1の**a**の範囲は、**b**よりも土地の傾斜が **Y** であり、水田や **Z** が広がっている。

(3) 表1の㉑～㉔は、地図の四つの港湾・空港のいずれかを表している。関西国際空港を示すものを、一つ選んで記号を書きなさい。

表1 四つの港の主な輸出品目と輸出額(2019年)

	輸出額の上位品目	輸出額(億円)
㉑	集積回路, 電気回路用品, *1科学光学機器	51 872
㉒	自動車, 自動車部品, *2内燃機関	69 461
㉓	自動車, 自動車部品, 内燃機関	123 068
㉔	プラスチック, 建設・鉱山用機械, 内燃機関	55 571

*1カメラ, レンズ, 計測機器など *2エンジン

(4) 国内輸送に関する問題である。

① 表2のA～Dは、鉄道, 自動車, 船舶, 航空のいずれかの輸送機関を表している。

表2 国内の*旅客輸送量の輸送機関別割合(%)


	A	B	C	D
1965年	31.6	66.7	0.8	0.9
2017年	62.8	30.4	6.6	0.2

*輸送時の人数に輸送距離をかけたもの

Bにあてはまる輸送機関を書きなさい。

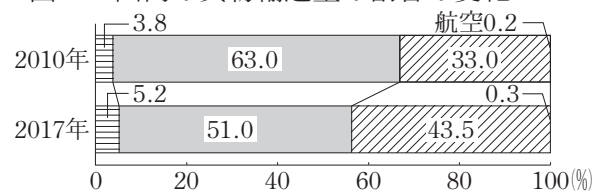
② 図2と図3から読みとれる貨物輸送の特色を、解答欄にしたがって書きなさい。

図2 国内の*1貨物輸送量に対する*2エネルギー消費量の割合



*1 輸送時の重量に輸送距離をかけたもの
*2 使用したエネルギー(石油, 石炭など)を熱量で表したもの

図3 国内の貨物輸送量の割合の変化



※図3の凡例は図2に同じ。

(表1, 表2, 図2, 図3は「日本国勢図会2020/21年版」などから作成)

3 次の表は、三つの視点から、わが国の近世までの様子と近現代の様子を比較し、まとめたものである。これを表

視点	政治や国家の制度	人々の生活と文化									
近世までの様子	<p>◇大陸から伝わった制度を取り入れながら①政治の仕組みが整えられた。</p> <p>◇②武士が台頭して武家政治が広まり、近世には幕府と藩による支配体制が260年余り続いた。</p> <p>資料1 十七条の憲法とその内容</p> <table border="1"> <tr> <td>一に曰く、和を以て貴しとなし、さからうことなきを宗とせよ。</td> <td rowspan="3">内 容 役人の心構えとして「あ」の命令である詔を守り、「い」の教えなどである三宝をあつく敬うこととされた。</td> </tr> <tr> <td>二に曰く、あつく三宝を敬え。…<small>みことのり</small></td> </tr> <tr> <td>三に曰く、詔を承りては必ずつつしめ。 (部分)</td> </tr> </table>	一に曰く、和を以て貴しとなし、さからうことなきを宗とせよ。	内 容 役人の心構えとして「あ」の命令である詔を守り、「い」の教えなどである三宝をあつく敬うこととされた。	二に曰く、あつく三宝を敬え。… <small>みことのり</small>	三に曰く、詔を承りては必ずつつしめ。 (部分)	<p>◇古代には、国際的な要素をもった文化を基礎としながら、文化の国風化が進んだ。</p> <p>◇中世からの民衆の成長を背景に、近世には都市での町人文化、各地方の生活文化が生まれた。</p> <p>資料3 唐獅子図屏風 (狩野永徳)</p> <table border="1"> <tr> <td>作品の特色</td> </tr> <tr> <td>二頭の唐獅子が歩く姿を描いた、力強く豪華な作品である。</td> </tr> </table>	作品の特色	二頭の唐獅子が歩く姿を描いた、力強く豪華な作品である。			
一に曰く、和を以て貴しとなし、さからうことなきを宗とせよ。	内 容 役人の心構えとして「あ」の命令である詔を守り、「い」の教えなどである三宝をあつく敬うこととされた。										
二に曰く、あつく三宝を敬え。… <small>みことのり</small>											
三に曰く、詔を承りては必ずつつしめ。 (部分)											
作品の特色											
二頭の唐獅子が歩く姿を描いた、力強く豪華な作品である。											
近現代の様子	<p>◇明治維新の後、わが国は憲法と議会をもつ近代的な立憲国家となった。</p> <p>◇太平洋戦争の後、日本国憲法が制定されるなど民主化が進められた。</p> <p>資料2 第1回帝国議会の議員構成(1890年)</p> <table border="1"> <tr> <td>貴族院</td> <td>華族 135人</td> <td>その他 106人</td> </tr> <tr> <td></td> <td>皇族10人</td> <td>立憲改進黨41人</td> </tr> <tr> <td>「う」</td> <td>立憲自由党 130人</td> <td>その他 129人</td> </tr> </table> <p>(「議会制度百年史」などから作成)</p>	貴族院	華族 135人	その他 106人		皇族10人	立憲改進黨41人	「う」	立憲自由党 130人	その他 129人	<p>◇欧米諸国の影響を受けて、生活様式の変化や、③文化の大衆化が見られた。また、科学技術の発展により国民の生活水準が向上した。</p> <p>資料4 5年ごとの雑誌の出版数(1910~1930年)</p> <p>(「数字でみる日本の100年」から作成)</p>
貴族院	華族 135人	その他 106人									
	皇族10人	立憲改進黨41人									
「う」	立憲自由党 130人	その他 129人									

(1) 政治や国家の制度に関する問題である。

① 下線部①に関わる資料1の「あ」と「い」にあてはまる語を、それぞれ一つずつ選んで記号を書きなさい。

ア 天皇 イ 大臣 ウ 摂政 エ 律令 オ 儒教 カ 仏教

② 下線部②に関わるア～ウを、年代の古い順に並べ替え、記号を書きなさい。

ア 平治の乱が起こる イ 承久の乱が起こる ウ 平将門の乱が起こる

③ 資料2の「う」にあてはまる名称を書きなさい。また、「う」の議員選挙において、選挙権があたえられた有権者の資格を、解答欄にしたがって書きなさい。

(2) 人々の生活と文化に関する問題である。

① 資料3が描かれた時代に活躍した人物を、一人選んで記号を書きなさい。

ア 歌川広重 イ 千利休 ウ 清少納言 エ 近松門左衛門

② 下線部③に関わる資料4の時期に見られた生活様式の変化を、一つ選んで記号を書きなさい。

ア ラジオ放送がはじまり全国に普及した イ 洗濯機、冷蔵庫など家庭電化製品が普及した
ウ 太陰暦に代わって太陽暦が採用された エ 米などの生活物資が配給制や切符制になった

を見て、(1)～(3)の問いに答えなさい。

国際社会との交流

◇古代から東アジアを中心に④活発な交流が見られたが、近世には⑤オランダ商館が出島に移されるなど鎖国とよばれる状態が続いた。

資料5 モンゴル帝国の拡大



◇開国により欧米や⑥アジア諸国との関係が緊密となった。今後も国際貢献など⑦交流の活性化が求められている。

資料6 主な周辺国と結んだ条約

日清修好条規

日朝修好条規

第8条 両国の開港地にはそれぞれの役人を置き、自国の商人の取り締まりを行う。財産や産業について訴えがあった事件は、その役人が裁判を行い、自国の法律で裁く。(部分要約)

第10条 日本国の人民が朝鮮国の開港地に在留中に罪を犯し、朝鮮国の人民と交渉が必要な事件は、全て日本国の領事が裁判を行う。(部分要約)

年表

年代	主なできごと
1860	パリ*万博に、幕府や薩摩藩、佐賀藩が出展
1870	ウィーン万博に、新政府が初出展
1880	
1890	シカゴ万博に、高村光雲「老猿」など出品
1900	パリ万博に、黒田清輝「湖畔」など出品
1910	
1920	国際連盟に加盟
1930	国際連盟を脱退 東京での万博の開催延期を決定 …………… B
1940	ポツダム宣言を受諾
1950	サンフランシスコ平和条約を締結 国際連合に加盟
1960	
1970	大阪万博を開催 非核三原則を決議 沖縄で、国際海洋博覧会を開催 …………… C

*万博とは、万国博覧会の略称

(3) 国際社会との交流に関する問題である。

① 下線部④に関わる資料5に示したXの国と、わが国との交流の様子を、一つ選んで記号を書きなさい。

- ア 皇帝から王の称号や金印などが授けられた イ 朱印船貿易により各地に日本町ができた
ウ 民間の貿易が行われ禅宗の僧が行き来した エ 勘合を用いた朝貢形式の貿易が行われた

② 下線部⑤のときの将軍は誰か、書きなさい。

③ 下線部⑥に関わる資料6から読みとれる、当時のわが国が結んだ二つの条約の特色の違いを、それぞれの条約を結んだ相手国の国名を用いて書きなさい。

④ 下線部⑦に関わる年表のAの時期に、新政府の中で主導権を維持しようとして、当時の将軍が行ったことを、次の語を用いて書きなさい。〔返上〕

⑤ 年表のBの背景となるできごとを、一つ選んで記号を書きなさい。

- ア ベトナム戦争の激化 イ 石油危機の発生 ウ ソ連の解体 エ 日中戦争の長期化

⑥ 年表のCに関連した次の文の「え」に入る適切な内容を書きなさい。

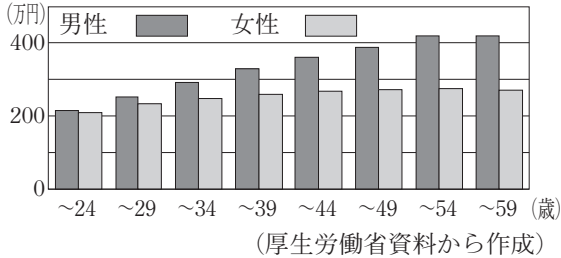
政府は、沖縄が「え」ことを記念して、国際海洋博覧会を開催した。

4 次は、「私たちが築く社会のあり方」について、それぞれのテーマを生徒が調べまとめたものの一部である。これらと図、資料、表を見て、(1)～(3)の問いに答えなさい。

テーマ1 男女平等の実現に向けて

- 男女の賃金を比較すると、男性より女性の方が低く、**あ**傾向にある。
- 女性の活躍推進に向けて法律が作られ、**あ**企業の行動計画策定を促進している。

図1 わが国の男女の年齢別賃金



資料1 企業の行動策定と秋田県の取り組み

ある企業では、子育て世帯の従業員の**い**を目的として、社内に保育所を設置している。こうした企業に、県では右のようなステッカーを配布している。

(秋田県あきた未来創造部資料から作成)

テーマ2 経済の安定と公平な税制に向けて

- 人や物、お金や情報などが国境を越えて地球規模で移動する**う**化の進展により、**え**貿易が活発になり、**え**日本企業の海外進出が進んだ。
- 地方自治の充実のため、地方の財政格差を抑える目的で**え**が配分されている。

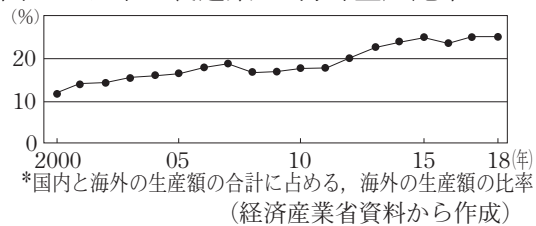
資料2 為替相場の変動による影響

<20ドルのシャツを1,000枚輸入する場合>

I 1ドル=120円の時 2,400円×1,000枚
II 1ドル=100円の時 2,000円×1,000枚

Iと**II**を比較すると、**II**の時にわが国の**え**には有利になる。これは、市場で円に対する需要が高まり、**え**に替える動きが強まったことによる。

図2 日本の製造業の*海外生産比率



(1) テーマ1に関する問題である。

- 労働三法のうち、労働時間の上限について定めた法律名を書きなさい。
- あ**に入る適切な内容を、図1から読みとり、次の語を用いて書きなさい。

[年齢]

- 下線部**あ**に関して、資料1の**い**にあてはまる内容を、一つ選んで記号を書きなさい。

- ア 団結権の保障 イ 離職率の低下
 ウ 労働災害の防止 エ 雇用の減少

(2) テーマ2に関する問題である。

- う**にあてはまる語を書きなさい。
- 下線部**え**に関して、資料2の**X**と、**Y**にあてはまる内容の正しい組み合わせを、一つ選んで記号を書きなさい。

- ア X 輸入企業 Y 円をドル
 イ X 輸出企業 Y 円をドル
 ウ X 輸入企業 Y ドルを円
 エ X 輸出企業 Y ドルを円

- 下線部**え**に関して、図2に見られる変化によって起きた国内の状況を、一つ選んで記号を書きなさい。

- ア 市場の寡占化 イ 流通の合理化
 ウ 都市の過密化 エ 産業の空洞化

- え**にあてはまる収入項目を、図3の**ア**～**エ**から一つ選んで記号を書きなさい。

図3 地方公共団体の収入項目の割合 (2019年度)

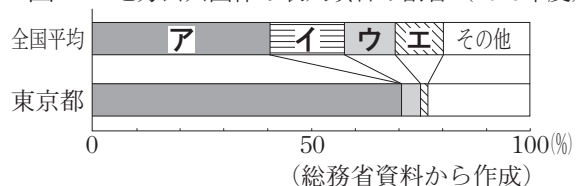


図4 「公平さ」の視点から見た各国の税制

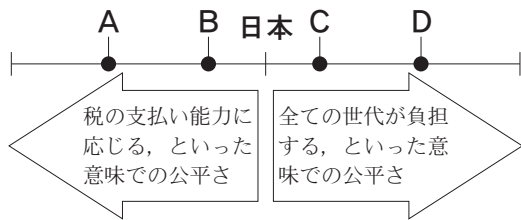
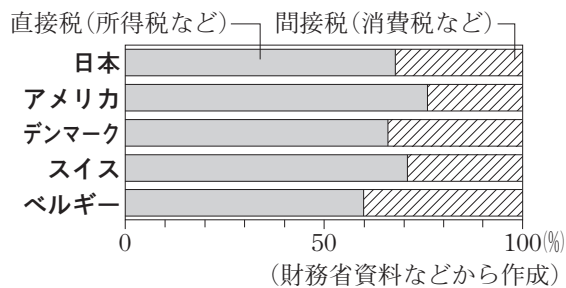


図5 5か国の直接税と間接税の割合



テーマ3 国際社会の平和と発展に向けて

- 社会の変化にともなって生じる課題の解決に向けて、身近なところでは、**お**を目的とした取り組みが見られる。
- 国家間には、国際協調を進めるために、**㉔**様々なきまりがある。また、**㉕**地域ごとに連携や協力の動きが見られる。
- **㉖**国際連合には、総会、**㉗**安全保障理事会などがあり、世界の平和と安全の維持を目的とした活動に、わが国も積極的に関わっている。

資料3 身近な取り組みの例

一部の駅や空港などには、礼拝のために、静かに過ごせるスペースが設けられている。

表1 人権に関する主な条約と日本の取り組み

主な条約	日本の取り組み	
	批准年	関連する主な法律
女子差別撤廃条約	1985	男女雇用機会均等法
子どもの権利条約	1994	児童福祉法
障害者権利条約	2014	障害者差別解消法

表2 中東の情勢に関する決議の投票結果

	賛成	反対	棄権
常任理事国	3か国	1か国	1か国
非常任理事国	9か国	1か国	なし

(国際連合広報センター資料から作成)

⑤ 図4は、図5をもとに**日本**を基準として二つの「公平さ」の視点から生徒がまとめたものであり、**A~D**は、それぞれ**日本**を除く4か国を示している。**A**にあたる国名を、図5から一つ選んで書きなさい。

(3) **テーマ3**に関する問題である。

① 資料3は、**お**に関する取り組みの例である。**お**にあてはまる内容を、一つ選んで記号を書きなさい。

- ア 地域活性化 イ 防災管理
- ウ 異文化理解 エ 環境保全

② 下線部**㉔**について、排他的経済水域において沿岸国に認められた権利を、二つ選んで記号を書きなさい。

- ア 水産資源の管理
- イ 鉱産資源の開発
- ウ 上空飛行の独占
- エ 沿岸国以外の航行の禁止

③ 下線部**㉕**について、東南アジア10か国が加盟している組織の名称を、一つ選んで記号を書きなさい。

- ア EU イ N I E S
- ウ O P E C エ A S E A N

④ 次は、下線部**㉖**に関わる表1について、生徒がまとめたものである。**か**にあてはまる語を書きなさい。

1948年に国際連合で**か**が採択された後、関連する様々な条約が採択された。わが国でも共生社会の実現に向けて、条約の批准と法律の整備が進められている。

⑤ 表2は、下線部**㉗**における決議の投票結果である。この決議が採択されたか、採択されなかったかのどちらかを○で囲み、その理由を表2をもとに書きなさい。

社会採点基準

問題		正 答				配 点		問題		正 答				配 点	
大問	小問					小問	大問	大問	小問					小問	大問
1	(1)	海峽	大西洋	謁	う	2点	16点	3	(3)	①	ウ			3点	(18)34点
	(2)	F 州				2点				②	徳川家光			2点	
	(3)	ウ				2点				③	(例) 清とは対等な条約を結び、朝鮮とは日本に有利な不平等条約を結んだ。			4点	
	(4)	㊦				3点					④	(例) 政権を朝廷に返上した。			
	(5)	エ				3点				⑤		エ			
	(6)	(例) インドは他国よりも第3次産業人口の割合が低く、人口が多いため一人あたりのGDPも低い。				4点				⑥	(例) 日本に復帰した			3点	
2	(1)	イ				2点	16点	4	(1)	①	ウ			2点	
	(2)	①	ウ			3点				②	Y	(例) ゆるやか			2点
		②	Z	(例) 果樹園											
	(3)	㊦				2点				③	イ			3点	
	(4)	①	鉄道			3点					④	(例) グローバル			3点
②		(例) 自動車は、他の輸送機関に比べてエネルギー消費量の割合が高く、貨物輸送量の割合が減っている。			4点										
3	(1)	①	あ	ア	い	カ	3点	(16)	(3)	①	ウ			2点	
		②	ウ → ア → イ				3点			②	ア	⋮	イ	2点	
		③	名称	衆議院			2点			③	エ			2点	
	資格		(例) 一定額以上の税金を国に納める満25歳以上の男子			2点	④			世界人権宣言			2点		
	(2)	①	イ			3点	⑤			理由	採択された <u>採択されなかった</u> (例) 反対する常任理事国があったから。			3点	
		②	ア			3点									
								合 計						100点	